

I NUMERI

1. SCRIVI I NUMERI CHE SENTI :

.....

.....

.....

2. CALCOLA :

+ più **- meno** **= uguale**


$5 + 4 = \dots\dots\dots$ $7 - 2 = \dots\dots\dots$ $18 + 11 = \dots\dots\dots$ $21 - 7 = \dots\dots\dots$ $30 - 11 = \dots\dots\dots$

$6 + 15 = \dots\dots\dots$ $8 + 9 = \dots\dots\dots$ $28 - 19 = \dots\dots\dots$ $23 + 3 = \dots\dots\dots$ $29 - 7 = \dots\dots\dots$

$2 + 90 = \dots\dots\dots$ $38 + 1 = \dots\dots\dots$ $89 - 89 = \dots\dots\dots$ $17 - 8 = \dots\dots\dots$

$1000 + 2000 = \dots\dots\dots$ $978 - 143 = \dots\dots\dots$ $600 + 250 = \dots\dots\dots$ $9540 - 8540 = \dots\dots\dots$

3. PROBLEMI :


1. In un cestino c'erano 6 pezzi di formaggio. Un topolino  ne ha portati via 2: quanti pezzi di formaggio sono rimasti?

.....

2. La mamma ha comprato un sacchetto di dolci: 3 ciambelle, 4 meringhe, 2 cannoli. Quanti sono in tutto i dolci contenuti nel sacchetto?.....

3. In un parco nazionale africano ci sono 1450 elefanti. Le femmine adulte sono 720 e i cuccioli sono 140. Quanti sono i maschi adulti?.....

4. Michela legge un libro di 122 pagine ne ha lette 110 . Quante gliene mancano?


5. Nel mio giardino ci sono 8 fiori  gialli, 3 rossi e 6 arancioni. Quanti fiori sono in tutto?.....

6. Marco possiede 148 figurine. Il giorno dopo va dal giornalaio e compra 10 pacchetti, ogni pacchetto ne contiene 8. Nei 10 pacchetti che ha comprato ha trovato 16 doppioni (che si tiene per sè) per completare l'album ci vogliono 255 figurine. Quante figurine possiede ora Marco? Quante figurine gli mancano per completare l'album?

.....

7. Asch ha 204 pokeball, 15 pokemon, 7 noe e 1 amico. Quanti oggetti ha in tutto Asch?

.....

8. Se una bambola  costa 5 €, quanto costano 4 bambole ?